

ΒΙΟΛΟΓΙΑ Α

Φύλλο εργασίας 2^ο

Λειτουργίες οργανισμών

1. Α Να βάλεις κάθε φορά το γράμμα που συμπληρώνει σωστά τις παρακάτω προτάσεις


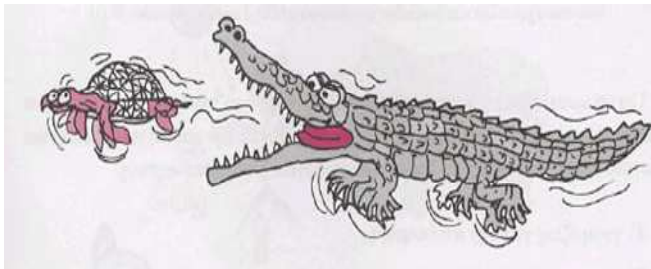
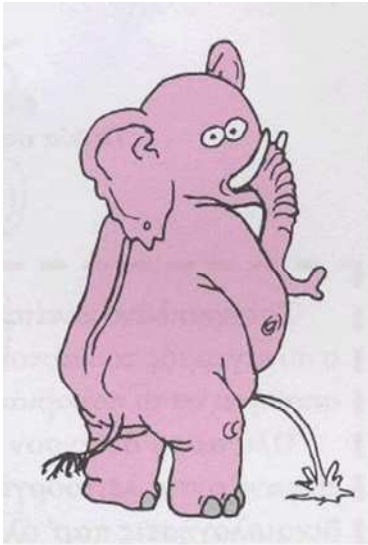
- Για να παραμείνουν ζωντανοί οι οργανισμοί , πρέπει ()
Α) να τρέφονται με φυτά
Β) να παίρνουν ενέργεια από τον ήλιο
Γ) να παίρνουν και να χρησιμοποιούν ενέργεια
Δ) να αναπαράγονται
- Ένα αντικείμενο που ποτέ δεν υπήρξε ζωντανό και δεν εμφανίζει όλα τα χαρακτηριστικά της ζωής είναι ()
Α) ένας οργανισμός
Β) ένας νεκρός οργανισμός
Γ) ένα άβιο αντικείμενο
Δ) το περιβάλλον



2. Είναι φθινόπωρο. Η θερμοκρασία έχει ήδη αρχίσει να μειώνεται αισθητά, τα πρώτα βοριαδάκια εμφανίστηκαν, οι βροχές έγιναν συχνό φαινόμενο. Όλα δείχνουν ότι έρχεται ο χειμώνας.... Όλοι και όλα ετοιμάζονται γι αυτόν. Σημείωσε πως ετοιμάζονται για την αλλαγή αυτή οι παρακάτω οργανισμοί.

Χελιδόνια	
Άνθρωποι	
Αρκούδα	
Μυρμήγκια	

3. Να αναφέρετε ποια από τις λειτουργίες των ζωντανών οργανισμών γίνεται σε κάθε ένα από τα παρακάτω ζώα



Aggeliki Hliopoulou